

1. Bu testte sırasıyla Türk Dili ve Edebiyatı (1 - 24), Tarih-1 (25 - 34), Coğrafya-1 (35-40) alanlarına ait 40 soru vardır.
2. Cevaplarınızı, cevap kağıdının Türk Dili ve Edebiyatı – Sosyal Bilimler-1 testi için ayrılan kısmına işaretleiniz.

Aşağıdaki beyitlerden hangisi bir mesneviden alınmış olamaz?

- A) Her birisi bir nigâra urgun
Şemşir gibi dehânı pürhûn
- B) Bunların başlarına taç neden
Bize bu fakr u ihtiyaç neden
- C) Olup hoşnud kendü ateşinden
Şikâyet etmez olmuş mahveşinden
- D) Yüzüm sürüp çemenler gibi hâke
Dualar eyledim o zat-ı pâke
- E) Temâşâçün berü gel kim göresin
Nite gözüm yaşı ırmak u çaydur

“Gözüne mil çekilmiş bir âmâ gibi evler” dizesindeki söz sanatı aşağıdakilerden hangisinde yoktur?

- A) Ben bir gök kuruşum sırmalı kesende
- B) Gece ayaklarımdan akıp giden bir seldir
- C) Hava kurşun gibi ağır, yağmursa arsız
- D) Günahkâr toprağıma saçından bir tel düştü
- E) Bu erkekler kokuyu kediler gibi alır

Kasidenin beş ana bölümü bulunur: ----. Bir kasidede bu bölümlerin bütünüünün bulunması şart değildir. Fakat en az iki bölümün bulunması gerekir. Girizgâh ise bir bölüm olmayıp, her bölümün başlangıcında bulunan ve daha çok bir iki beyitle o bölümü haber veren beyit ya da beyitlerdir

Aşağıdakilerden hangisi bu parçada boş bırakılan yere getirilebilecek kelimelerden biri değildir?

- A) Nesib B) Medhiye C) Tegazzül
- D) Matla E) Fahriye

(I)Tüm dünyada insanların sağlıklı olmaları, yaşamlarını ve fiziksel gelişimlerini sürdürebilmeleri için yeterli miktarda ve güvenli gıdayı alabilmeleri, yeterli ve dengeli beslenebilmeleri gerekir. (II) Bu gereksinimin gıdalardan karşılanması açısından güvenli ve sağlıklı gıda üretimi ve tüketimi de zorunludur. (III) Dünyada gıdaya ilişkin sorunların başında gıda güvenliğinin sağlanamaması gelmektedir. (IV) Gıda güvenliği ile ilgili tehlikeler çevre kirliliği, toplumun değişen tüketim alışkanlıkları, toplu gıda ve yemek üretiminde artış, denetim uygulamalarının yetersizliği, nüfus artışı gibi nedenlerle artmaktadır. (V) Yaşamımızın temel maddesi olan gıdalar, çiftlikten çatala kadar geçen aşamalarda gıda güvenliğinin yeterince sağlanamamasından zararlı hale gelerek sağlığımız için gizli bir tehlike oluşturabilmektedir.

Bu parçada numaralanmış cümlelerden hangisinde yargı gerekçesiyle birlikte verilmemiştir?

- A) I. B) II. C) III. D) IV. E) V.

- I. Bazı yayınevleri bu boşluğun geç de olsa farkına vararak, kendilerince seçme ve değerli gördükleri eserleri okuyucuya tekrar ulaştırma gayreti gösteriyorlar.
- II. Birçok kıymetli yazarımızın eserleri, günümüzde yeniden basımı yapılmadığı için okunamıyordu.
- III. Kubbealtı Neşriyatı “Ciğerdelen” isimli romanıyla tanınan Safiye Erol’un doğumunun yüzüncü yılında, adı geçen kitabını, hem de diğer eserlerini yayınladı.
- IV. Yayınevi çeşitli vesilelerle bu hizmeti devam ettireceklerini açıkladı.
- V. Bu örneğin sonuncusunu Kubbealtı Akademisi Kültür ve Sanat Vakfı gösterdi.

Numaralanmış cümlelerle anlamlı bir paragraf oluşturmak için doğru sıralama aşağıdakilerden hangisi olmalıdır?

- A) II.- I.- V .- III. -IV. B) II.- V.- I .- III. -IV.
- C) III.- I.- V .- IV. -II. D) IV.- I.- II .- III. -V.
- E) II.- I.- IV .- III. -V.

AYT/Edebiyat - Sosyal-1

Tarih öncesi devirlerin başlama ve bitişleri bölgelere göre farklılıklar göstermiştir.

Bu durum tarih öncesinde toplumlar için;

- I. yerleşik düzene geçmedikleri,
- II. etkileşimin zayıf olduğu,
- III. gelişmişlik düzeylerinin aynı olmadığı

yorumlarından hangilerini doğrular niteliktedir?

- A) Yalnız I B) Yalnız II C) Yalnız III
D) I ve II E) II ve III

Orta Asya'da kurulan Türk devletleri askeri ve siyasi güçlerini ellerinde tutmak için;

- I. Şamanizm dışında inanışları benimseme,
- II. İpek Yolu'nu elinde tutma,
- III. Türk boylarını tek çatı altında toplama

politikalarından hangilerini uygulamıştır?

- A) Yalnız I B) Yalnız III C) I ve II
D) II ve III E) I, II ve III

Hz. Muhammed Dönemi'nde aşağıdaki gelişmelerden hangisi ile Arap Yarımadası'nda Müslümanlara karşı direnebilecek bir Yahudi bölgesi kalmamıştır?

- A) Hayber'in Fethi
B) Hudeybiye Antlaşması
C) Taif Kuşatması
D) Hendek Savaşı
E) I. ve II. Akabe Biatları

"Balkanlardaki Osmanlı fetihlerinin neden bu kadar kolay olduğunu açıklamak güç değildir..."

Halil İnalıcık'ın yukarıda verilen cümlesi aşağıdakilerden hangisi destekler nitelikte değildir?

- A) Balkan beyleri arasında çekişmeler olması
B) Avrupa'nın ilk daimi ordusunun yeniçeriler olması
C) Ortodoks ile Katolik halk arasında anlaşmazlıkların yaşanması
D) Başkent Bursa'dan Edirne'ye taşınması
E) Anadolu Türk siyasi birliği çalışmalarının başlaması

Tımar sisteminde devletin vergi memuru konumundaki dirlik sahipleri toprakları satamaz, devredemez ve miras bırakamazdı. Avrupa'da görülen feodalite yönetiminde ise kralların senyörlerin topraklarına el koyma hakkı yoktu.

Bu bilgilere bakılarak;

- I. Feodalite ve tımar sistemi uygulamada devletlerin gücünü zayıflatmıştır.
- II. Feodalite sisteminde kralların merkezi gücü sınırlıdır.
- III. Tımar sisteminde toprağın mülkiyeti devlete aittir.

yargılarından hangilerine ulaşılabilir?

- A) Yalnız I B) Yalnız II C) I ve II
D) II ve III E) I, II ve III

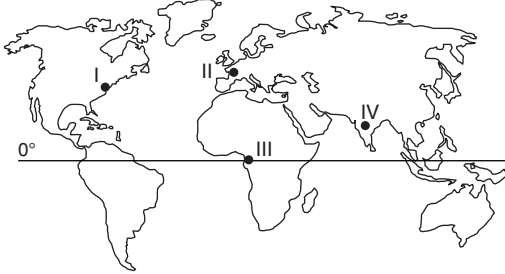
Avrupa'da devletlerin kendi ekonomik ve siyasi çıkarlarını izleyen, istediği taraf ile ittifak kuran modern bağımsız devletler dönemi aşağıdakilerden hangisi ile başlamıştır?

- A) Haçlı Seferleri B) Coğrafi Keşifler
C) Sanayi Devrimi D) Magna Charta
E) Westphalia Antlaşması

ALTIN KARMA

AYT/Edebiyat - Sosyal-1

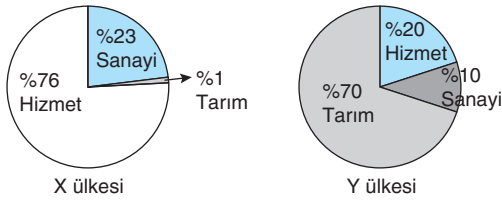
Az gelişmiş ülkelerde ekstansif tarım yöntemi kullanılır. Bu tür ülkelerde doğa şartlarına bağlılık fazla olduğu için tarımsal üretimde yıldan yıla dalgalanmalar olur.



Buna göre, harita üzerinde işaretli yerlerden hangilerinde tarımsal üretimde dalgalanmalar daha fazladır?

- A) I ve II B) II ve III C) III ve IV
D) II ve IV E) I ve IV

Aşağıda iki farklı ülkede ekonomik sektörlerin gayrisafi milli hasıla içindeki oranları grafiklerle gösterilmiştir.



Buna göre, aşağıdaki unsurlardan hangisi x ülkesinde daha azdır?

- A) Ortalama insan ömrü
B) Doğum oranı
C) İnsani gelişim endeksi
D) Okur yazar oranı
E) Kentsel nüfus

Aşağıdaki tabloda üç farklı şehir hakkında bazı bilgiler işaretlenmiştir.

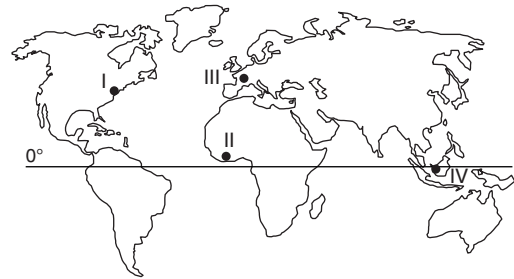
Ülkeler	I	II	III
Türk İslam Şehri	✓	✓	
Bulunduğu Bölge Anadolu		✓	✓
Bulunduğu Bölge Orta Asya	✓		

Buna göre, bu şehirler aşağıdakilerden hangisinde doğru olarak verilmiştir?

	I	II	III
A) Buhara		Tebriz	İstanbul
B) Semerkant		Bursa	İzmir
C) Buhara		Fergana	Kayseri
D) Taşkent		Tebriz	Konya
E) Semerkant		Konya	Bursa

ALTIN KARMA

Dünya nüfusunun hızla artması ve doğal kaynakların hızlı bir şekilde tükenmesi nedeniyle yeni kaynakların aranması zorunlu hâle gelmiştir. Dünya'daki doğal kaynaklar artan ihtiyaçlara yetmediği için uzay madenciliği gündeme gelmiştir. Uzaydaki asteroidlerden maden elde etmeye dayalı madencilik çalışmalarına uzay madenciliği denir. Teknolojik açıdan gelişen ülkelerde uzay madenciliği çalışmaları günümüzde devam etmektedir.



Buna göre; harita üzerinde işaretli yerlerden hangilerinde uzay madenciliği çalışmalarının yapılması beklenir?

- A) I ve II B) I ve III C) I, III ve IV
D) I, II ve IV E) II, III ve IV